

FUVEST 2011  
Faculdade de Arquitetura e Urbanismo  
Universidade de São Paulo  
Provas Específicas  
Carreiras: 201 Arquitetura –FAU e 212 Design

### **Prova de Geometria e Funções**

**Data:** 13 de janeiro de 2011  
**Horário:** das 8hs às 12hs

#### **Observações gerais relativas à prova**

**Importante:** leia integralmente estas observações e o enunciado das questões.

**Verifique** se você recebeu o seguinte material:

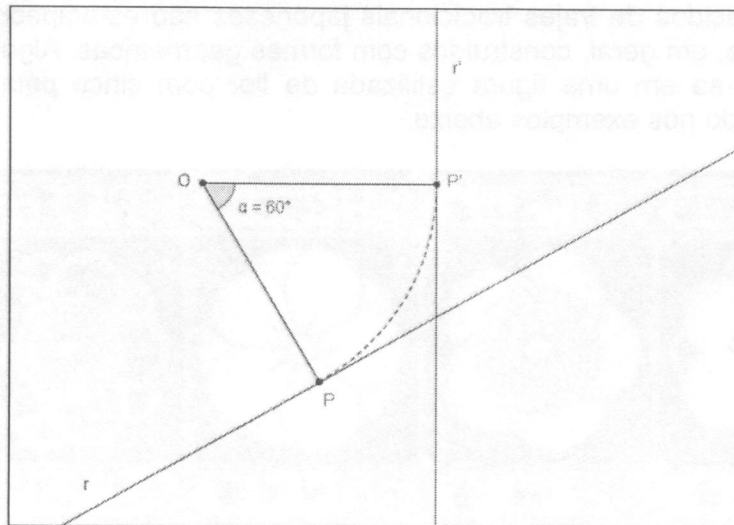
- **duas folhas** de papel branco impressas frente e verso, **etiquetadas** para fazer os desenhos solicitados;
- **três folhas** de papel fino, sem etiqueta, para realizar rascunhos;

**Verifique** se o número impresso nas etiquetas coladas nas duas folhas de respostas que você recebeu, corresponde ao seu número de inscrição.

**Não assine nem identifique** as folhas etiquetadas, sob pena de anulação da prova.

Ao final da prova, você **deverá entregar ao fiscal as duas folhas etiquetadas.**






- a) Na sua folha de respostas estão desenhadas duas semirretas  $AB$  e  $CD$  sendo que as retas que as contém formam um ângulo agudo de medida  $60^\circ$ . Obtenha, com régua e compasso, o centro  $O$  de uma rotação que transforma a semirreta  $AB$  na semirreta  $CD$ . Descreva os procedimentos geométricos utilizados em sua construção e determine um possível valor  $\alpha$  do ângulo dessa rotação.
- b) Na sua folha de respostas estão desenhadas duas retas  $r$  e  $s$  e assinalado um ponto  $A$ . Utilize rotações para obter, com régua e compasso, um ponto  $B \in r$  e um ponto  $C \in s$  de modo que  $\triangle ABC$  seja um triângulo equilátero. Descreva os procedimentos geométricos utilizados em sua construção e determine quantos triângulos não congruentes podem ser obtidos.

**Questão 3.** Na folha de respostas estão desenhados dois sistemas de coordenadas ortogonais  $Oxyz$ , um para o item  $a$  e outro para o item  $b$  desta questão. Em cada uma deles, marque os pontos  $A = (0,0,0)$ ,  $B = (3,-3,-3)$ ,  $C = (6,0,-6)$  e  $D = (3,3,-3)$ . Esses pontos formam o quadrilátero  $ABCD$ .

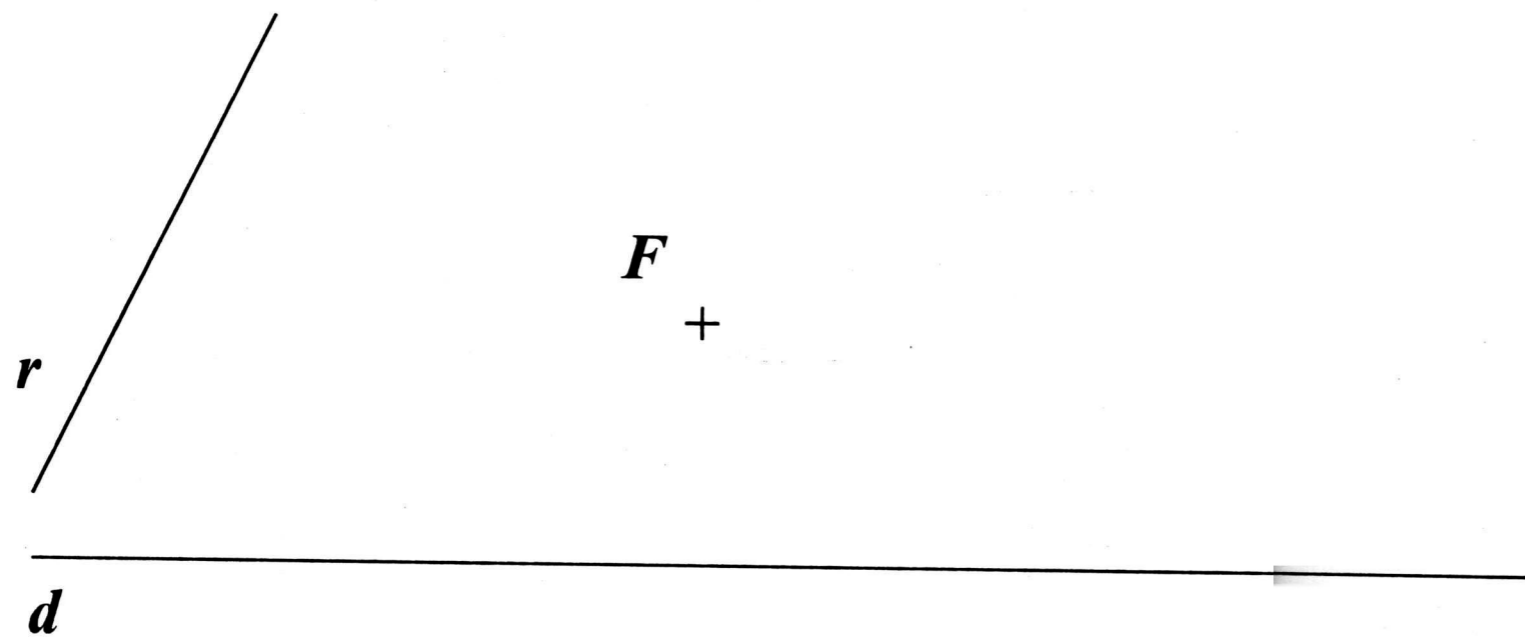
- a) Desenhe a pirâmide de base  $ABCD$  e vértice  $P = (0,0,6)$ , e desenhe o quadrilátero  $A'B'C'D'$  resultante da intersecção dessa pirâmide com o plano  $Oxy$ . Determine as coordenadas de seus vértices.
- b) Desenhe a pirâmide de base  $ABCD$  e vértice  $Q = (6,3,3)$ , e desenhe o quadrilátero  $A'B'C'D'$  resultante da intersecção dessa pirâmide com o plano  $Oxy$ . Determine as coordenadas de seus vértices.

**Questão 4.** Os tecidos de trajes tradicionais japoneses são estampados com os brasões familiares, em geral, construídos com formas geométricas. Alguns desses padrões baseiam-se em uma figura estilizada de flor com cinco pétalas, como pode ser observado nos exemplos abaixo.

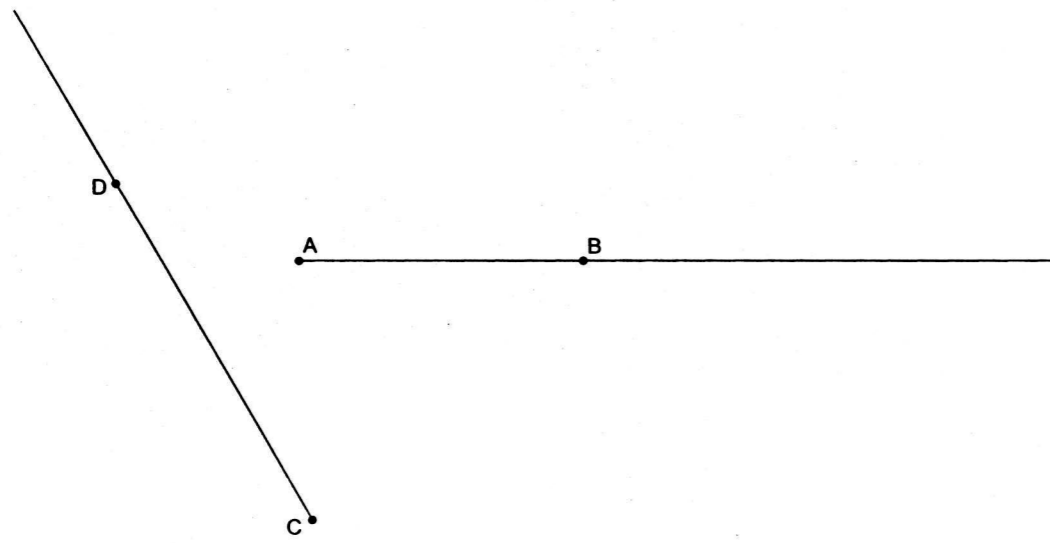


Você deverá traçar com instrumentos de desenho na folha de respostas a estrutura básica do padrão, que é uma circunferência de raio 5 cm, na qual determinará os cinco pontos dos vértices de um pentágono regular inscrito (que são os pontos de tangência dos arcos de circunferência que formarão as pétalas); a seguir, determine os cinco pontos no exterior da circunferência que serão os centros dos arcos de circunferência que formarão as pétalas, e que se tangenciam naqueles vértices do pentágono inscrito. **Descreva em palavras, como obteve esses centros.**

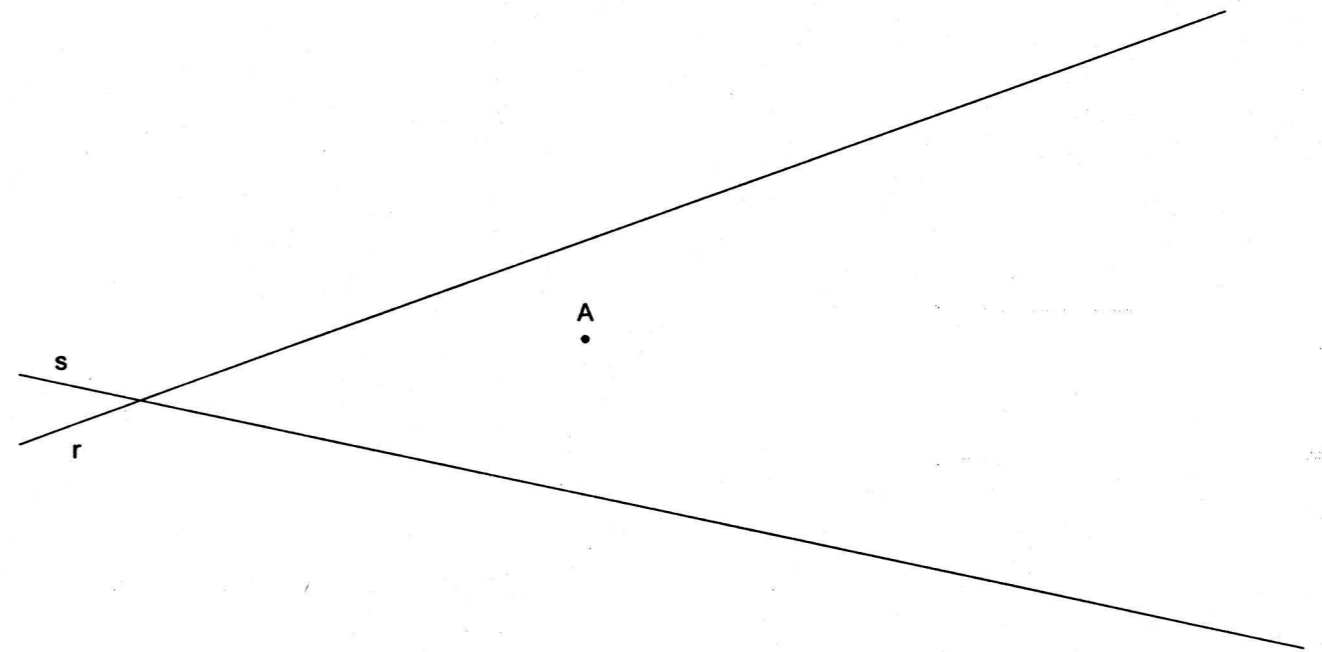
1)



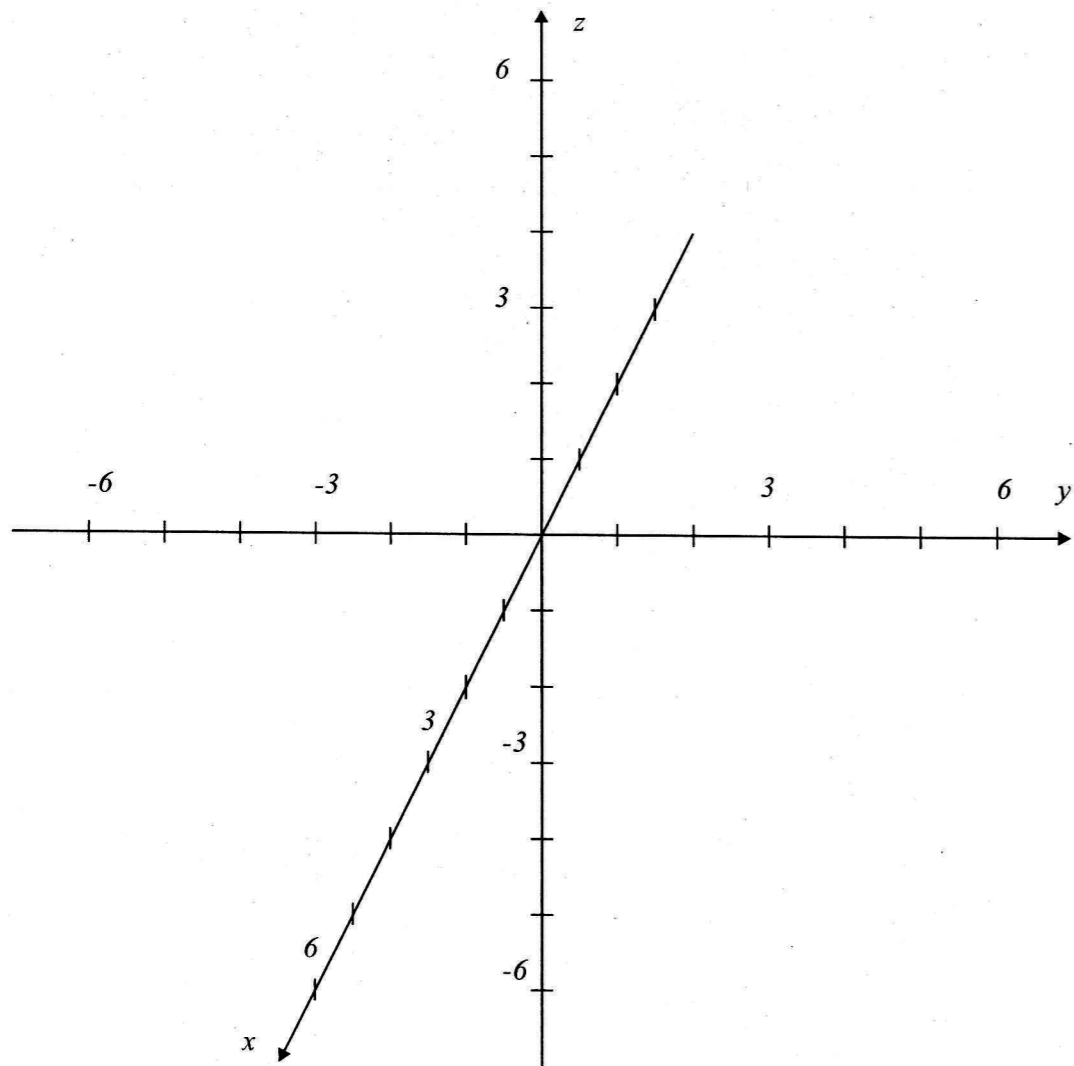
2-a)



2-b)



3-a)



3-b)

